


2 Sami veut acheter un casque et un tee-shirt.

Combien paiera-t-il en tout?




Je cherche.

Je calcule.

Sami doit payer€ en tout.

3 Lola a 19€ dans son porte-monnaie. Elle achète un livre à 3€.

Combien d'argent lui reste-t-il?




Je cherche.

Je calcule.

Il lui reste€.

4 Timéo a 35€. Combien lui manque-t-il pour acheter les rollers?

Dessine les euros qui manquent et complète le calcul.



Je cherche.

Je calcule. $20\text{€} + 10\text{€} + 5\text{€} + \dots = 56\text{€}$

Il manque€ à Timéo.